
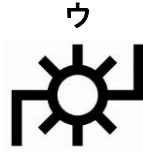




社会 (40分)

受験 番号	
----------	--

1 次の各問いに答えなさい。

(1) 地図ではさまざまな地図記号がつかわれています。工場をあらわしている地図記号としてあてはまるものを、次のア～エの中から一つ選び、記号で答えなさい。



(2) 地球の中心を通り、緯度が0度で、長さ約4万kmの線を何といいますか。あてはまるものを、次のア～エの中から一つ選び、記号で答えなさい。

ア 緯線

イ 経線

ウ 本初子午線

エ 赤道

(3) 日本はさまざまな原料を輸入に頼るなど、多くの国と貿易をおこなっています。アメリカ・オーストラリア・カナダから輸入しているものとしてあてはまるものを、次のア～エの中から一つ選び、記号で答えなさい。

ア とり肉

イ 小麦

ウ 米

エ ジャガイモ

(4) 日本の経済水域の距離としてあてはまるものを、次のア～エの中から一つ選び、記号で答えなさい。

ア 12海里

イ 120海里

ウ 20海里

エ 200海里

(5) 日本の年中行事である【鏡開き】にはどのような意味がありますか。あてはまるものを、次のア～エの中から一つ選び、記号で答えなさい。

ア 無病息災をいのる

イ 先祖をしのぶ

ウ 収穫の喜びを分かち合う

エ 商売繁盛をいのる

(6) 2022年10月に全国( )王座を決定する大会が鹿児島県でおこなわれ、全国一位をかくとくしました。この( )に関する写真を、次のア～エの中から一つ選び、記号で答えなさい。



(7) 鹿児島県は数多くの島々を有する、南北に長い県です。北のはしから南のはしまで、どのくらいの距離かを、次のア～エの中から一つ選び、記号で答えなさい。

ア 約300km

イ 約3000km

ウ 約600km

エ 約6000km

(8) 室町時代に活躍した、右の人物と関わりが深いものを、次のア～エの中から一つ選び、記号で答えなさい。

人物

ア 金閣

イ 十七条の憲法

ウ 銀閣

エ 遣唐使

(9) 鎌倉時代にあらわされた『平家物語』の語り部を何というか答えなさい。

(10) 次のア～ウのできごとを、古い順にならべかえなさい。

ア 大化の改新が行われる

イ 日清戦争がおこる

ウ 鎖国が完成する



(11) 2022年のサッカーワールドカップはカタールという国で行われました。この国が属する地域としてあてはまるものを、次のア～エの中から一つ選び、記号で答えなさい。

ア アジア州

イ ヨーロッパ州

ウ アフリカ州

エ 南アメリカ州

社会 (40分)

受験 番号	
----------	--

2 次のI・IIの各問いに答えなさい。

I 中国・四国地方について、あとの各問いに答えなさい。

(1) 四国地方には「四国三郎」の異名を持つ、四国最大の河川があります。この河川を、次のア～エの中から一つ選び、記号で答えなさい。

- ア 信濃川      イ 吉野川      ウ 利根川      エ 筑後川

(2) 瀬戸内気候は、降水量が少ないという特ちょうがあります。その理由について、「風」の名前と「山地」の名前をいれて説明しなさい。

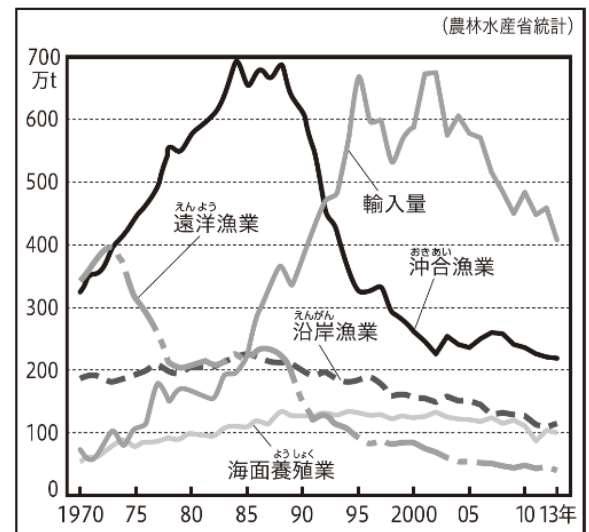
(3) 愛媛県はある農産物の生産が全国で2位の県です。この農産物を、次のア～エの中から一つ選び、記号で答えなさい。

- ア りんご      イ もも      ウ みかん      エ なし

(4) 鳥取県の境港は、沖合漁業の代表的な港です。しかし、沖合漁業は減少しており、その原因として、外国から安い魚が輸入されるようになったことが考えられます。これに関して、右のグラフより、輸入量が沖合漁業の漁獲量をはじめてこえた年代を、次のア～エの中から一つ選び、記号で答えなさい。

- ア 1970年代      イ 1980年代  
ウ 1990年代      エ 2000年代

グラフ 日本の漁獲量の変化



(5) 瀬戸内工業地域には、石油工場が多くあります。石油工場を中心に、石油製品を原料や燃料にする工場が集まっているところを何といいますか。

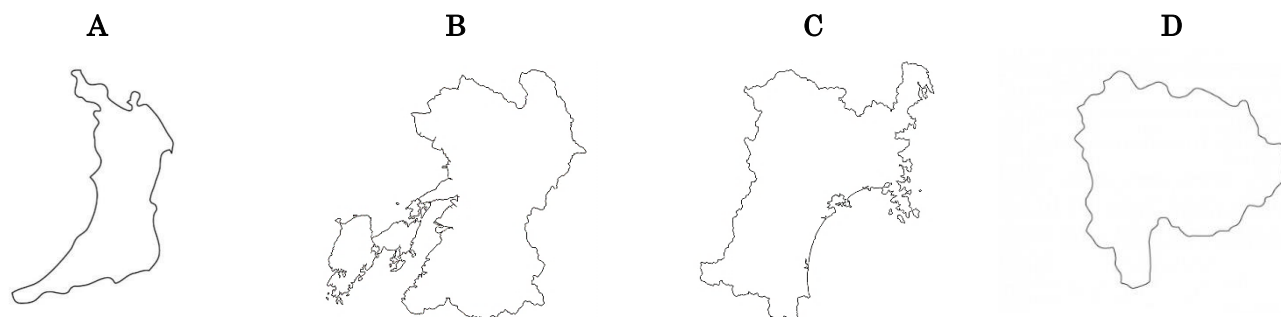
(6) 中国・四国地方の伝統工芸品としてあてはまるものを、次のア～エの中から一つ選び、記号で答えなさい。

- ア 輪島塗      イ 南部鉄器      ウ 萩焼      エ 有田焼

(7) 中国・四国地方の世界遺産としてあてはまるものを、次のア～エの中から一つ選び、記号で答えなさい。

- ア 白神山地      イ 石見銀山      ウ 日光東照宮      エ 屋久島

II 次の略地図A～Dを見て、あとの表中の(①)～(⑤)にあてはまる地名を答えなさい。ただし、同じ番号には同じ地名が入るものとします。(略地図の縮尺は一定ではない。)



略地図	都道府県	都道府県庁所在地	特ちょう・関係のあることがら
A	( ① ) 府	( ① ) 市	阪神工業地帯の中心であり、多くの中小工場があります。
B	( ② ) 県	( ② ) 市	県内の阿蘇山は、国内で最大のカルデラがあります。
C	宮城県	( ③ ) 市	( ③ ) 平野では、米の栽培がさかんです。
D	( ④ ) 県	( ⑤ ) 市	水はけのよい土地をいかし、ぶどうの栽培がさかんです。

社会 (40分)

受験 番号	
----------	--

3 次のI・IIの各問いに答えなさい。

I 次の年表を見て、あとの各問いに答えなさい。

年代	おもなできごと
1854 ( ① )	日米和親条約が結ばれる・・・A 日米修好通商条約が結ばれる・・・B
	↑ X ↓
1867	江戸幕府が政治権力を朝廷に返す・・・C
1868	政治の方針として ( ② ) を定める
	↑ Y ↓
1889	大日本帝国憲法が公布される

- 年表中の ( ① ) と ( ② ) にあてはまる数字と語句をそれぞれ答えなさい。
- 年表中 A について、この条約は 1853 年にアメリカからやってきたある人物が、日本に対して開国をするよう要求したことに始まります。この人物を答えなさい。
- 年表中 B について、この条約は日本にとって不平等な内容でした。どのような点が不平等であったか、簡単に説明しなさい。
- 年表中 X の期間に起きたできごとのうちあてはまらないものを、次のア～エの中から一つ選び、記号で答えなさい。

- ア 鹿児島がイギリスと戦争をする      イ 版籍奉還はんせきほうかんがおこなわれる
- ウ 薩長同盟さつちやうどうめいが結ばれる      エ 長州藩の砲台が外国の軍隊に占領される

(5) 年表中 C について、次の①と②の問いに答えなさい。

① このできごとを何といいますか。あてはまるものを、次のア～エの中から一つ選び、記号で答えなさい。

- ア 参勤交代さんきんこうたい      イ 廃藩置県はいはんちけん      ウ 大政奉還たいせいほうかん      エ 地租改正ちそかいせい





② このできごとを行った、江戸幕府の最後の将軍としてあてはまるものを、次のア～エの中から一つ選び、記号で答えなさい。

- ア 徳川慶喜よしのぶ      イ 徳川吉宗      ウ 徳川家康      エ 徳川家光

(6) 表中 Y の期間におきた次のア～ウのできごとを、古い順にならびかえなさい。

- ア 徴兵令ちやうへいが出される      イ 学制がくせいが公布される      ウ 西南戦争せいなんが起こる

II 次の表中の ( ① ) ～ ( ④ ) にあてはまる語句や人物名を答えなさい。

資料				
建造物・人物	東大寺の大仏	平等院鳳凰堂 <small>びやうどういんほうおう</small>	織田信長	( ④ )
関係のあることから	( ① ) 天皇	藤原頼通	( ③ ) 城	足尾銅山鉍毒事件 <small>あしおどうざんこうどく</small>
時代	奈良時代	( ② ) 時代	安土桃山時代	明治時代

令和5年度 神村学園中等部入学者選抜学力検査問題 【一般I】 その4

社会 (40分)

受験 番号	
----------	--

4 次のI・IIの各問いに答えなさい。

I 次の表をみて、あとの各問いに答えなさい。

大日本帝国憲法		日本国憲法
①天皇	主権者	( A )
法律の範囲内で自由や権利を認める	②国民の権利	基本的人権の尊重
天皇の協賛機関	③国会	国権の最高機関・唯一の立法機関
天皇を助けて政治を行う	④内閣	行政をすすめる機関
天皇の名において裁判を行う	⑤裁判所	( B ) 権の独立が保障されている

(1) 文中の ( A )・( B ) にあてはまる語句を答えなさい。

(2) 下線部①について、日本国憲法では天皇を次のように規定しています。( X ) にあてはまる語句を答えなさい。

日本国憲法第1条は、天皇の地位は「主権の存する日本国民の総意に基く」と規定し、「日本国の ( X ) であり日本国民統合の ( X )」であるとしています。

(3) 下線部②について、日本国憲法において保障されている国民の権利にあてはまらないものを、次のア～エの中から一つ選び、記号で答えなさい。

ア 裁判を受けること      イ 職業を選択すること      ウ 税を納めること      エ 自由に学問を学ぶこと

(4) 下線部③について、次の(i)と(ii)の問いに答えなさい。

(i) 国会は、衆議院と参議院という二つの議院からなる制度をとっています。それぞれの任期を次のア～エの中から一つ選び、記号で答えなさい。

ア 衆議院－4年 参議院－4年      イ 衆議院－4年 参議院－6年  
ウ 衆議院－6年 参議院－6年      エ 衆議院－6年 参議院－4年

(ii) 2022年7月に選挙が行われたのは、衆議院と参議院のどちらか答えなさい。

(5) 下線部④について、次の(i)と(ii)の問いに答えなさい。

(i) 現在の内閣総理大臣を答えなさい。

(ii) 内閣の仕事としてあてはまらないものを、次のア～エの中から一つ選び、記号で答えなさい。

ア 最高裁判所の長官を指名する      イ 法律を制定する      ウ 予算を提出する      エ 外国と条約をむすぶ

(6) 下線部⑤について、裁判所の判決の内容に不服がある場合は、複数回裁判を受けられる制度があります。何回まで裁判を受けられますか。次のア～エの中から一つ選び、記号で答えなさい。

ア 2回      イ 3回      ウ 4回      エ 5回

II 「3R活動」は、ゴミ削減のための取り組みを指します。地球温暖化・大気汚染などのさまざまな課題に対し、2015年に国連が採択した「SDGs (持続可能な開発目標)」が目指す持続可能な社会の実現に深く関わっています。3R活動にあてはまらないものを、次のア～エの中から一つ選び、記号で答えなさい。

ア マイバック・マイボトルを持参する      イ 使わなくなったものは、捨てずにフリーマーケットやバザーに出す  
ウ 資源ごみの分別を徹底する      エ 電化製品の新型モデルが発売されると、新しいものに買いかえる